

منطقة حولي التعليمية

اختبار نهاية الفترة الدراسية الثانية

العام الدراسي 2019/2018م

الصف التاسع

نموذج إجابة اختبار مادة

الاجتماعيات

اختبار المنهج الكامل



وزارة التربية
الادارة العامة لمنطقة حولي التعليمية
التوجيه الفني للاجتماعيات

الاجابة النموذجية

لاختبار المنهج الكامل

الصف التاسع

العام الدراسي ٢٠١٨ / ٢٠١٩ م

الفترة الثانية
مادة الاجتماعيات
الزمن : ساعة و ٥ دقائق
عدد الاوراق : ٥

السؤال الاول : يتكون من (أ - ب)

أ) أكمل العبارات التالية بما يناسبها :

- ١- أضخم صخرة في العالم توجد في دولة تسمى استراليا ص ٨٥
- ٢- الحرب التي شاركت فيها معظم دول العالم في الفترة ما بين ١٩١٤ - ١٩١٨ م تسمى الحرب العالمية الاولى ص ١٦
- ٣- تقع دولة الكويت بالنسبة لقارة آسيا في الجهة جنوب غرب ص ١٤٣
- ٤- التابع الوحيد للأرض يسمى القمر ص ٢١
- ٥- أخطر انواع التلوث البيئي يسمى الهوائي ص ٦١
- ٦- سهولة الحركة والانتقال بين الدول من خلال إزالة الحواجز بينها يسمى العولمة ص ١٠٩

ب) اختر البديل المناسب من بين البدائل التالية مع وضع خط تحتها :

- ١- عقد مؤتمر الصلح سنة ١٩١٩ م في قصر : ص ١١٩
(التويلري - فرساي - القصر الابيض - ليس كل ما سبق)
- ٢- المساحة الجبلية في اليابان تشكل حوالي : ص ٩٢
(٧٠% - ٧١% - ٧٢% - ٧٣%)
- ٣- مجلس التعاون لدول الخليج العربي يمثله الشعار رقم : ص ١٤٩



د



ج



ب



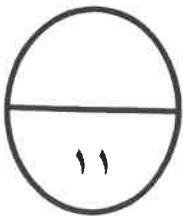
أ

- ٤- الغاز الأساسي المسبب لظاهرة الاحتباس الحراري يسمى : ص ١٣٤

(أول أكسيد الكربون - النيتروجين - الهيدروجين - ثاني أكسيد الكربون)

- ٥- خط الطول ١٨٠ درجة والذي يبدأ منه اليوم واليه ينتهي يسمى : ص ٢٤

(جرينتش - خط التاريخ الدولي - الاستواء - الجدي)



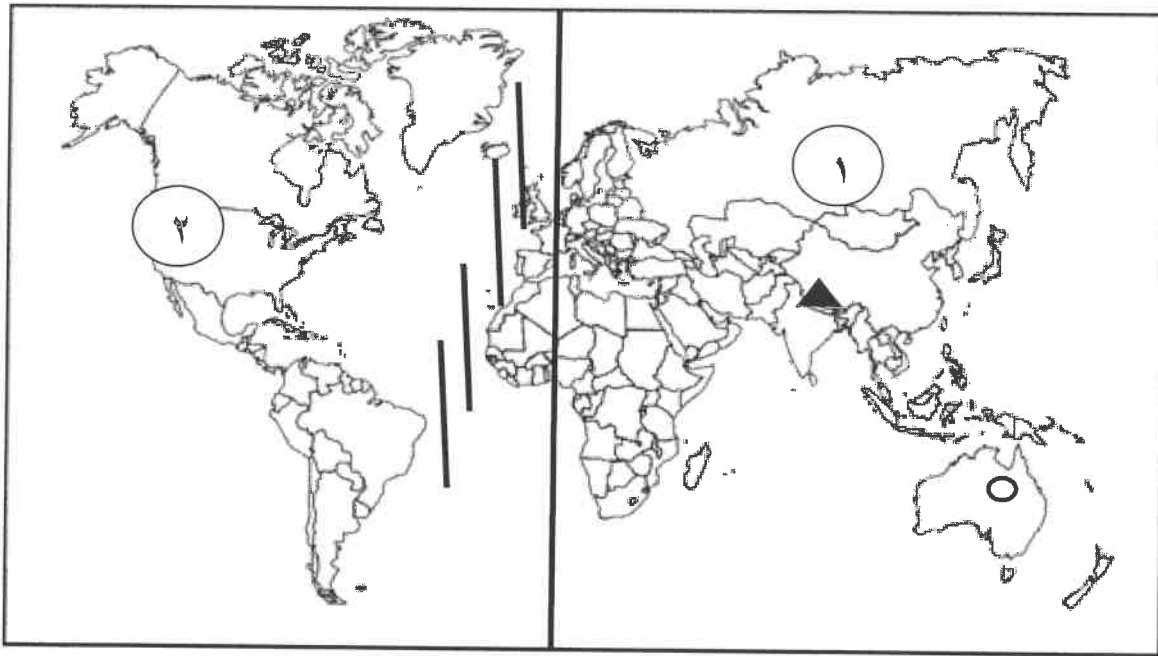
(لكل نقطة درجة)

السؤال الثاني : تتكون من (أ - ب)

(أ) ضع الرقم المناسب من القائمة (أ) امام ما يناسبها من القائمة (ب) : ص ٤٢

الرقم	القائمة (أ)	مكان كتابة الرقم	القائمة (ب)
١-	الأقاليم المناخية الحارة٣.....	تقع بين دائرتي عرض ٤٠ - ٦٠ شمالاً وجنوباً
٢-	الأقاليم المناخية المعتدلة الدفيئة	...٤... ..	تقع بين دائرتي عرض ٦٠ - ٩٠ شمالاً وجنوباً
٣-	الأقاليم المناخية المعتدلة الباردة٢.....	تقع بين دائرتي عرض ٣٠ - ٤٠ شمالاً وجنوباً
٤-	الأقاليم المناخية الباردة	-	تقع بين دائرتي عرض ٢٠ - ٤٠ شمالاً وجنوباً
٥-	١.....	تقع بين دائرتي عرض ٠ - ٣٠ شمالاً وجنوباً

(ب) لاحظ خريطة العالم ثم نفذ عليها ما يلي :



١- اكتب مدلولات الارقام التي على الخريطة :-

* الرقم (١) يمثل أكبر قارة في العالم من حيث المساحة تسمى آسيا ص ٧٩

* الرقم (٢) يرمز إلى جبال تسمى الروكي ص ٧٩

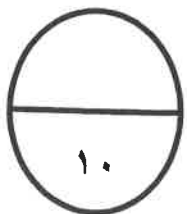
- نفذ على الخريطة ما يلي :-

* ضع الرمز Δ هضبة التبت ص ٨٠

* ظل المحيط الأطلسي بالشكل ص ٧٩

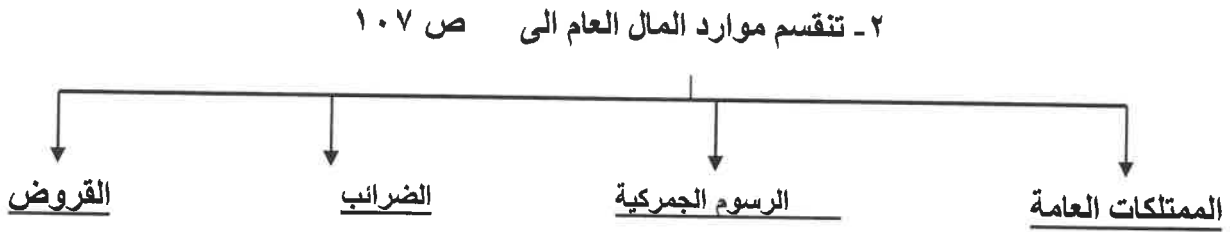
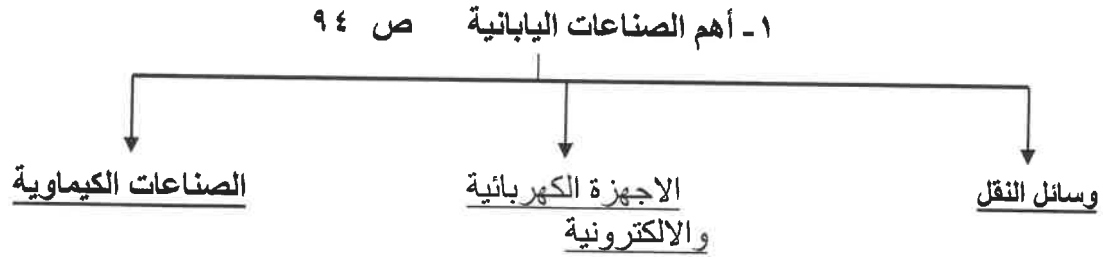
* ضع الرمز \bigcirc قارة استراليا ص ٨١

* ارسم خط الطول الرئيسي ص ٢٣



السؤال الثالث : تتكون من (أ - ب) (لكل نقطة درجة)

(أ) أكمل الناقص في المخططات السهمية التالية



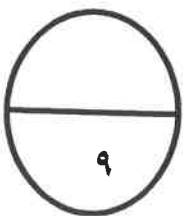
(ب) صحح ما تحته خط بكتابة الاحابة الصحيحة بين القوسين :

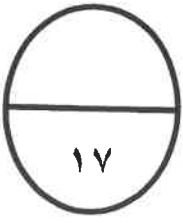
١- نظام اجتماعي تكون فيه الملكية في يد المجتمع كله يسمى النازية (الشيوعية) ص ١٢٣

٢- سحبات كونية غازية متوهجة تتخلل المجرات تسمى النيازك (السدم) ص ١٦

٣- رواسب مرجانية على شكل سلسلة من الصخور في البحار الضحلة الدافئة تسمى السبخة (الحاجز المرجاني) ص ٨٥

٤- طبقة في الغلاف الجوي تقوم بوظيفة امتصاص الاشعة فوق البنفسجية تسمى التروبوسفير (الأوزون) ص ١٣٣





السؤال الرابع : تتكون من (أ - ب - ج) (لكل نقطة درجة)

أ) عرف المفاهيم والمصطلحات التالية :

- ١- التكافل الاجتماعي / هو النظام الذي يقوم على التفاعل والإعالة بين الأعضاء في المجتمع ص ١١٠
- ٢- مجموعة المحلات / هي مجموعة العناصر الحية المهجرية مثل الفطريات والبكتريا التي تحلل المواد العضوية الى اصولها الاولى ص ٥٧
- ٣- الصادرات / السلع والخدمات التي تباع للبلد الأجنبية ص ٨٨
- ٤- النمو الطبيعي / معدل المواليد - معدل الوفيات ص ٨٣
- ٥- المناخ / الاحوال الجوية وتغيراتها خلال فترة طويلة لا تقل في العادة عن ٣٠ سنة ص ٤١

ب) علل لما يأتي :

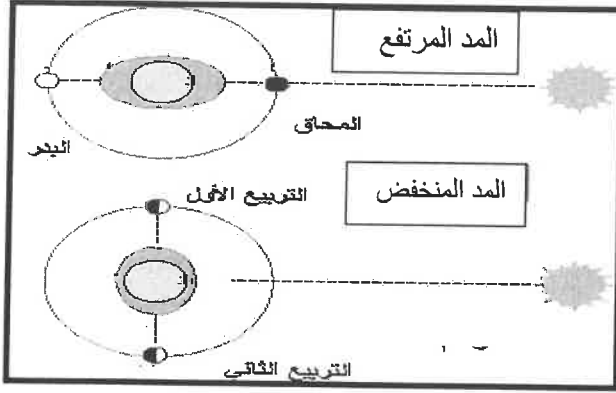
- ١- خروج روسيا سنة ١٩١٧م من الحرب العالمية الأولى.
* بسبب قيام الثورة الشيوعية فيها عام ١٩١٧م ص ١١٧
- ٢- يعد النفط والغاز الطبيعي مادة استراتيجية مهمة في عصرنا الحاضر .
- توفرهما بكميات كبيرة - سهولة النقل والتخزين - مهمان في السلم والحرب ص ١٣٠
- ٣- زراعة الأرز في شمال جزيرة هوكايدو اليابانية .
* استخدام وسائل التدفئة للتربة مع استنباط سلالات من البذور وحيث المناخ المعتدل البارد على شكل مدرجات ص ٩٣
- ٤- أهمية الغلاف الجوي بالنسبة للأرض .
* بحماية سطح الأرض من تساقط الشهب والنيازك * مصدر تكون السحب والغيوم والأمطار وهبوب الرياح منها * احتوائه على الأوكسجين الذي يعتمد عليه الإنسان والحيوان في عملية التنفس ص ٣٧

ج) قارن بين كلا من : ص ١٢٢ / ١٢٣

وجه المقارنة	الشيوعية	النازية
الدولة	روسيا	المانيا
الزعيم	لينينهتلر.....
المبادئ	وضع السلطة في يد الحزب والملكية في يد المجتمع	القومية العنصرية تفوق العرق الالمانى.

السؤال الخامس : يتكون من (أ - ب)

أ) الشكل الذي أمامك يمثل ظاهرتان فلكيتان أجب عن المطلوب :-



- ١- أكتب اسم الظاهرة في المربع الخالي إمامها ؟ (درجتين)
- ٢- وضح تأثير القمر على هذه الظاهرتين • (درجتين)
*وتعود هذه الحركة المائية إلى جاذبية كل من القمر والشمس
علما بان القمر يمارس جاذبية تساوى أكثر من ضعف جاذبية
الشمس لقربه منها • ص ٣٠

ب) أكتب فيما يلي :

١- الآثار السلبية المترتبة على إحراق آبار البترول . ص ٦٦ (٣ درجات)

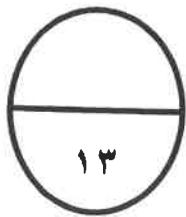
- *التأثير على الحياة النباتية والمحاصيل الزراعية بسبب الإمطار الحمضية •
- * التأثير على الصحة العامة للسكان وبالأخص الأطفال وكبار السن •
- * التأثير على التركيب الطبيعي للتربة •

٢- أنواع التعاون ؟ ص ١١٠ (٤ درجات)

- * اختياري هو العمل التطوعي والاختياري
- * جبري تعاون الموظفين في نطاق العمل
- * دفاعي تعاون أفراد المجتمع في مواجهة الكوارث
- *تتطوعي التعاون بين أفراد الأسرة

٣- شرطين من شروط الانضمام لعضوية الأمم المتحدة ؟ ص ١٣٧ (درجتان)

- * دولة مستقلة •
- * دولة محبة للسلام •
- تتعهد بتنفيذ قوانين هيئة الأمم والمتحدة •



انتهت الاسئلة